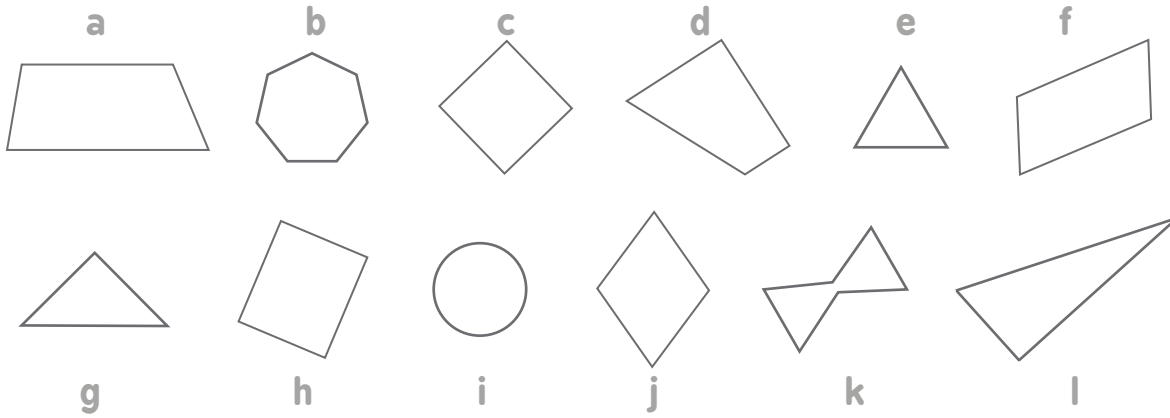


4 Qui suis-je ?



1) J'ai 4 côtés. J'ai des côtés opposés de même longueur. Je n'ai pas d'angle droit.  
Mes côtés consécutifs ne sont pas égaux. → .....

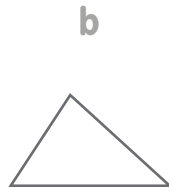
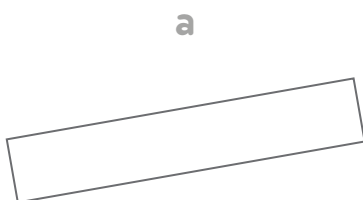
2) J'ai 4 côtés de longueurs différentes. Je n'ai pas d'angle droit.  
→ .....

3) J'ai des côtés opposés de même longueur. J'ai 4 angles droits.  
Mes côtés consécutifs ne sont pas égaux. → .....

4) J'ai des côtés opposés de même longueur. Je n'ai pas d'angle droit.  
Mes côtés consécutifs sont égaux. → .....

5 On peut m'appeler de différentes façons. Quelles sont-elles ?

triangle - hexagone - quadrilatère - équilatéral - polygone - rectangle -  
pentagone - isocèle - carré - losange - trapèze - cercle - cube



.....  
.....  
.....

.....  
.....  
.....

.....  
.....  
.....