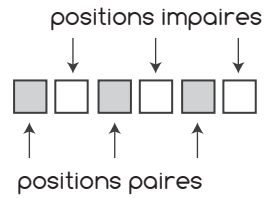


ENIGME

LE TICKET GAGNANT

Un ticket est gagnant si la somme des chiffres aux positions paires est égale à la somme des chiffres aux positions impaires. On me propose 5 tickets avec des chiffres cachés. Lequel dois-je prendre pour avoir une chance de gagner ?

- A) 81□□61 B) 7□727□ C) 4□4141
D) 12□9□8 E) 181□2□

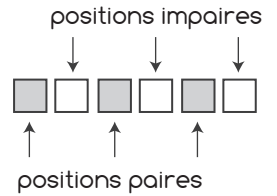


ENIGME

LE TICKET GAGNANT

Un ticket est gagnant si la somme des chiffres aux positions paires est égale à la somme des chiffres aux positions impaires. On me propose 5 tickets avec des chiffres cachés. Lequel dois-je prendre pour avoir une chance de gagner ?

- A) 81□□61 B) 7□727□ C) 4□4141
D) 12□9□8 E) 181□2□

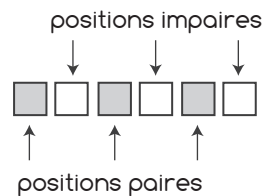


ENIGME

LE TICKET GAGNANT

Un ticket est gagnant si la somme des chiffres aux positions paires est égale à la somme des chiffres aux positions impaires. On me propose 5 tickets avec des chiffres cachés. Lequel dois-je prendre pour avoir une chance de gagner ?

- A) 81□□61 B) 7□727□ C) 4□4141
D) 12□9□8 E) 181□2□

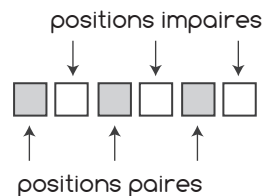


ENIGME

LE TICKET GAGNANT

Un ticket est gagnant si la somme des chiffres aux positions paires est égale à la somme des chiffres aux positions impaires. On me propose 5 tickets avec des chiffres cachés. Lequel dois-je prendre pour avoir une chance de gagner ?

- A) 81□□61 B) 7□727□ C) 4□4141
D) 12□9□8 E) 181□2□

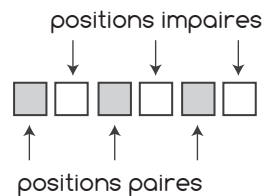


ENIGME

LE TICKET GAGNANT

Un ticket est gagnant si la somme des chiffres aux positions paires est égale à la somme des chiffres aux positions impaires. On me propose 5 tickets avec des chiffres cachés. Lequel dois-je prendre pour avoir une chance de gagner ?

- A) 81□□61 B) 7□727□ C) 4□4141
D) 12□9□8 E) 181□2□



ENIGME

LE TICKET GAGNANT

Un ticket est gagnant si la somme des chiffres aux positions paires est égale à la somme des chiffres aux positions impaires. On me propose 5 tickets avec des chiffres cachés. Lequel dois-je prendre pour avoir une chance de gagner ?

- A) 81□□61 B) 7□727□ C) 4□4141
D) 12□9□8 E) 181□2□

