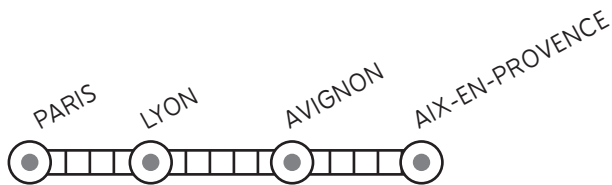


RESOLUTION DE PROBLEME

Au départ, 750 passagers montent dans le TGV de la ligne *PARIS / AIX-EN-PROVENCE*. 80 personnes descendent à LYON. 50 passagers montent à Avignon.

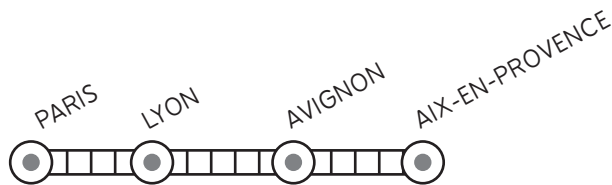
- a) Combien de passagers voyagent de Lyon à Avignon ?
- b) Combien de passagers arrivent à Aix-en-Provence ?



RESOLUTION DE PROBLEME

Au départ, 750 passagers montent dans le TGV de la ligne *PARIS / AIX-EN-PROVENCE*. 80 personnes descendent à LYON. 50 passagers montent à Avignon.

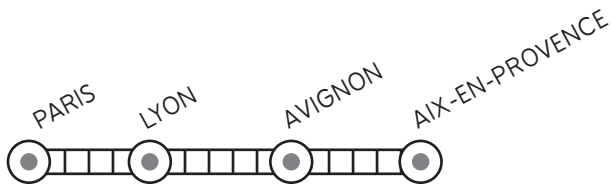
- a) Combien de passagers voyagent de Lyon à Avignon ?
- b) Combien de passagers arrivent à Aix-en-Provence ?



RESOLUTION DE PROBLEME

Au départ, 750 passagers montent dans le TGV de la ligne *PARIS / AIX-EN-PROVENCE*. 80 personnes descendent à LYON. 50 passagers montent à Avignon.

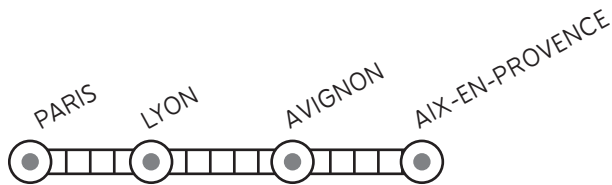
- a) Combien de passagers voyagent de Lyon à Avignon ?
- b) Combien de passagers arrivent à Aix-en-Provence ?



RESOLUTION DE PROBLEME

Au départ, 750 passagers montent dans le TGV de la ligne *PARIS / AIX-EN-PROVENCE*. 80 personnes descendent à LYON. 50 passagers montent à Avignon.

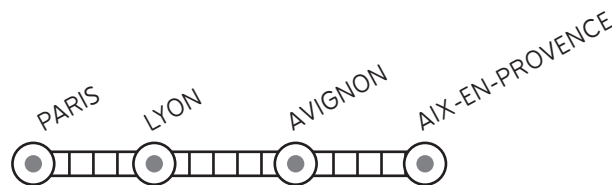
- a) Combien de passagers voyagent de Lyon à Avignon ?
- b) Combien de passagers arrivent à Aix-en-Provence ?



RESOLUTION DE PROBLEME

Au départ, 750 passagers montent dans le TGV de la ligne *PARIS / AIX-EN-PROVENCE*. 80 personnes descendent à LYON. 50 passagers montent à Avignon.

- a) Combien de passagers voyagent de Lyon à Avignon ?
- b) Combien de passagers arrivent à Aix-en-Provence ?



RESOLUTION DE PROBLEME

Au départ, 750 passagers montent dans le TGV de la ligne *PARIS / AIX-EN-PROVENCE*. 80 personnes descendent à LYON. 50 passagers montent à Avignon.

- a) Combien de passagers voyagent de Lyon à Avignon ?
- b) Combien de passagers arrivent à Aix-en-Provence ?

