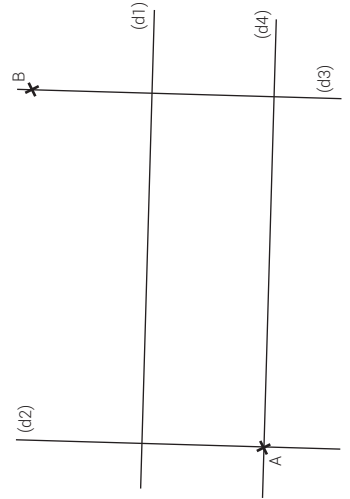




- 1) Trace une droite (d2) perpendiculaire à la droite (d1) et qui passe par le point A.
- 2) Trace la droite (d3) perpendiculaire à la droite (d1) et qui passe par le point B.
- 3) Trace la droite (d4) perpendiculaire à la droite (d3) et qui passe par le point A.



- 1) Trace une droite (d2) perpendiculaire à la droite (d1) et qui passe par le point A.
- 2) Trace la droite (d3) perpendiculaire à la droite (d1) et qui passe par le point B.
- 3) Trace la droite (d4) perpendiculaire à la droite (d3) et qui passe par le point A.



- 1) Trace une droite (d2) perpendiculaire à la droite (d1) et qui passe par le point A.
- 2) Trace la droite (d3) perpendiculaire à la droite (d1) et qui passe par le point B.
- 3) Trace la droite (d4) perpendiculaire à la droite (d3) et qui passe par le point A.

