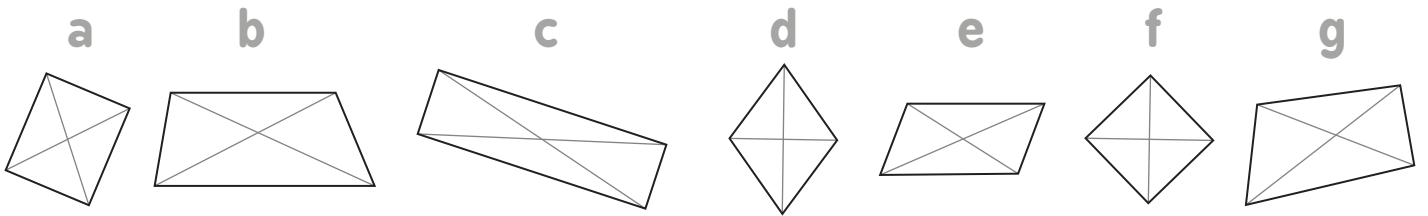
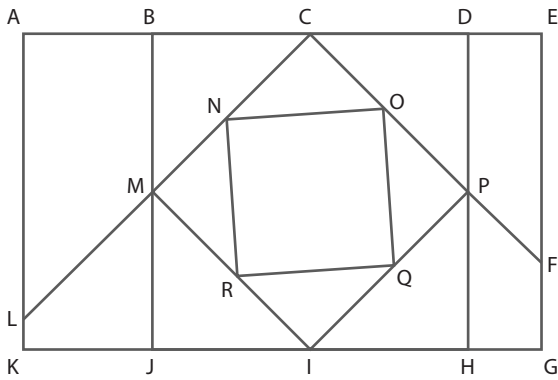


exo1 Retrouve les parallélogrammes et parmi ceux-ci retrouve les carrés, les rectangles, les losanges et justifie ta réponse en donnant au moins une propriété du carré, du rectangle ou du losange.

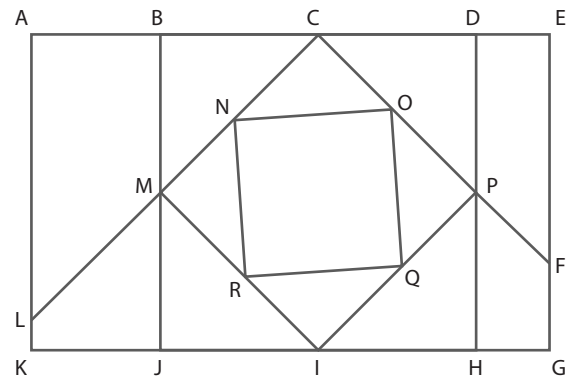


	Parallélog.	Losange	Carré	Rectangle	Justification
a				
b				
c				
d				
e				
f				
g				

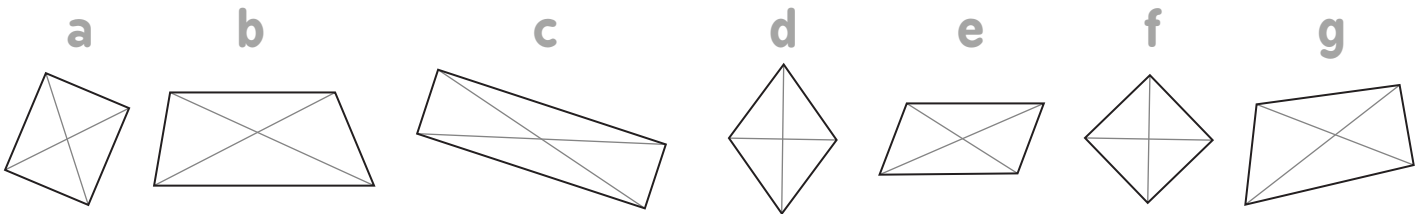
exo2 Nomme les 14 quadrilatères de cette figure.



exo2 Nomme les 14 quadrilatères de cette figure.



exo1 Retrouve les parallélogrammes et parmi ceux-ci retrouve les carrés, les rectangles, les losanges et justifie ta réponse en donnant au moins une propriété du carré, du rectangle ou du losange.



	Parallélog.	Losange	Carré	Rectangle	Justification
a				
b				
c				
d				
e				
f				
g				