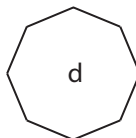
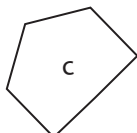
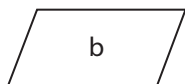
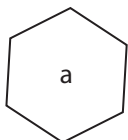


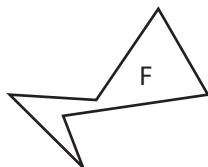
- être capable de vérifier la nature d'une figure en ayant recours aux instruments.
- être capable de tracer une figure à partir d'un programme de construction.

1 Complète les tableaux suivants.

1 ▶



2 ▶



/4

1	Nom du polygone
a	.....
b	.....
c	.....
d	.....

2	Nom
.....	Non polygone
.....	QUADRILATERE
.....	DECAGONE
.....	HEXAGONE

- 2 a) Le segment [FC] est une diagonale de ce polygone.  
Trace les 8 autres diagonales.  
b) Les diagonales AD, BE et FC se coupent au point O.  
Trace le cercle de centre O et de rayon [OC].  
(le cercle passe par les sommets du polygone)  
(1 point est réservé pour le soin)

/4

