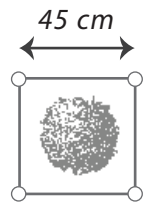


Le pépiniériste

Un pépiniériste entoure le pied de chacun de ses *arbrisseaux* d'un grillage plastique délimitant un carré de 45 cm de côté. Le pépiniériste a planté 16 rangées de 28 arbrisseaux chacune.

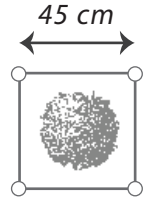
Quelle longueur de grillage (en m) doit-il prévoir ?



Le pépiniériste

Un pépiniériste entoure le pied de chacun de ses *arbrisseaux* d'un grillage plastique délimitant un carré de 45 cm de côté. Le pépiniériste a planté 16 rangées de 28 arbrisseaux chacune.

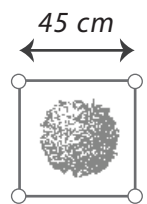
Quelle longueur de grillage (en m) doit-il prévoir ?



Le pépiniériste

Un pépiniériste entoure le pied de chacun de ses *arbrisseaux* d'un grillage plastique délimitant un carré de 45 cm de côté. Le pépiniériste a planté 16 rangées de 28 arbrisseaux chacune.

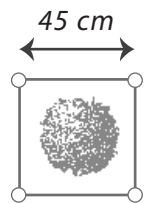
Quelle longueur de grillage (en m) doit-il prévoir ?



Le pépiniériste

Un pépiniériste entoure le pied de chacun de ses *arbrisseaux* d'un grillage plastique délimitant un carré de 45 cm de côté. Le pépiniériste a planté 16 rangées de 28 arbrisseaux chacune.

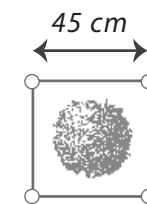
Quelle longueur de grillage (en m) doit-il prévoir ?



Le pépiniériste

Un pépiniériste entoure le pied de chacun de ses *arbrisseaux* d'un grillage plastique délimitant un carré de 45 cm de côté. Le pépiniériste a planté 16 rangées de 28 arbrisseaux chacune.

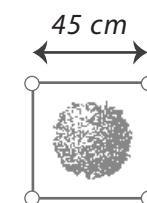
Quelle longueur de grillage (en m) doit-il prévoir ?



Le pépiniériste

Un pépiniériste entoure le pied de chacun de ses *arbrisseaux* d'un grillage plastique délimitant un carré de 45 cm de côté. Le pépiniériste a planté 16 rangées de 28 arbrisseaux chacune.

Quelle longueur de grillage (en m) doit-il prévoir ?



Le pépiniériste

Un pépiniériste entoure le pied de chacun de ses *arbrisseaux* d'un grillage plastique délimitant un carré de 45 cm de côté. Le pépiniériste a planté 16 rangées de 28 arbrisseaux chacune.

Quelle longueur de grillage (en m) doit-il prévoir ?

